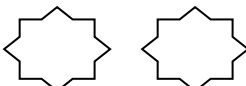
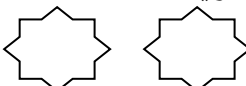
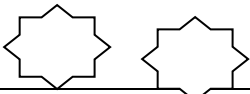
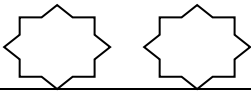


شماره	سوالات	بارم
۱	پسرم ، جواب جمع های زیر را با رسم چوب خط پیدا کن . $7+7=$ $8+9=$	
2	عزیزم ، در هر قسمت ، عددی را که رقم دهگان آن با بقیه فرق دارد رنگ بزن . ۸۶ ۷۵ ۶۴ ۳۶ ۸۲ ۳۴	
3	مهربانم ، نوشتنم عددها را ادامه بده . 10-20-.....-.....-..... 6-12-.....-.....-.....	
4	کم ترین عدد یک رقمی چه عددی است ؟ بیش ترین عدد یک رقمی کدام عدد است ؟	
5	حامد در هر دست خود ۷ گل دارد . او چند گل دارد ؟	
6	با رقم های ۳ ، ۰ ، ۷ چهار تا عدد دو رقمی بنویس ؟ - - -	
7	با توجه به ساعت جمله های زیر را کامل کن . ساعت به مانده است ساعت از گذشته است	
8	علی ۸ سال دارد ۷ سال بعد او چند ساله می شود ؟ (با رسم محور)	
9	پسرم ، عدد ۳۲ به ۳۰ نزدیکتر است یا به ۴۰ ؟	
۱۰	رقم یکان من ۵ و رقم دهگانم دو تا بیش تر از ۵ است . من چه عددی هستم ؟	
۱۱	حاصل جمع و تفریق های زیر را ، با هر روشی که دوست داری پیدا کن ؟ $90 - 50 = \dots\dots\dots$ $40 - 20 = \dots\dots\dots$ $10+10+5+20+5 = \dots\dots\dots$ $30+10+20+10+6 = \dots\dots\dots$ $16-8 = \dots\dots\dots$	
12	قبل و بعد عددهای زیر را بنویس .  18 	

	 90 	
	<p>عددهای دو رقمی را که می توان با رقم های ۴ و ۵ برای یکان و ۶ و ۸ برای دهگان نوشت ، بنویس.</p>	13

« خسته نباشی عزیزم »

جزوه سیپی